



Μαθαίνοντας στο σπίτι

Μαθηματικά

6+

πώς λέγονται
οι αριθμοί;

μετρώντας από
το 1 ως το 100

μεγαλύτερο από/
μικρότερο από

πρόσθεση και
αφαίρεση

οικογένειες
δεδομένων

γραφήματα



JO ELLEN MOORE



Μαθαίνοντας στο σπίτι

Μαθηματικά 6+

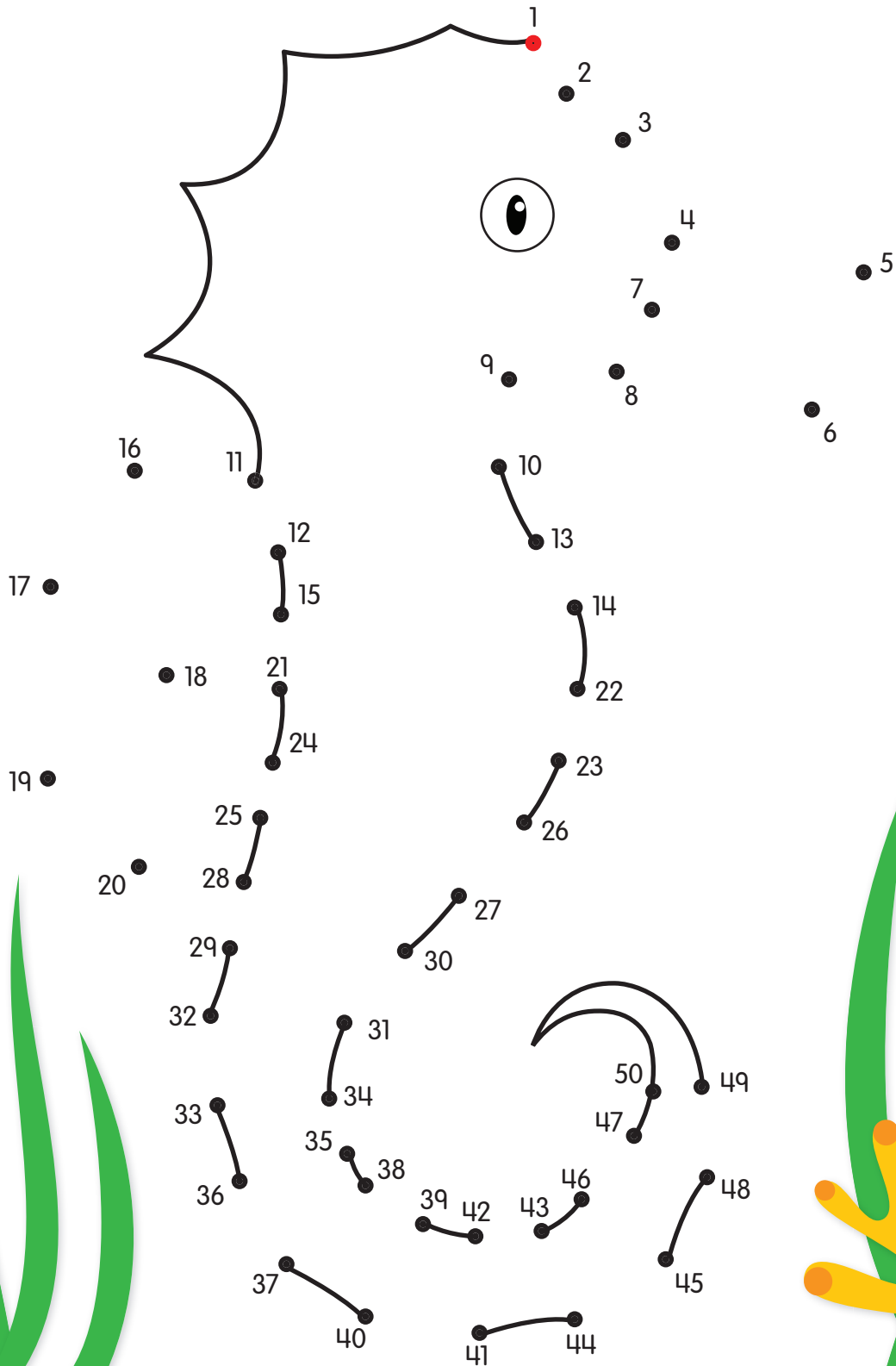
ΜΕΤΑΦΡΑΣΗ
ΚΩΣΤΑΣ ΣΙΜΟΣ



ΕΚΔΟΣΕΙΣ
ΠΑΤΑΚΗ

ένα παράξενο ψάρι

► Ένωσε τις τελίτσες. Ξεκίνησε από το 1.



μεγαλύτερο, μικρότερο

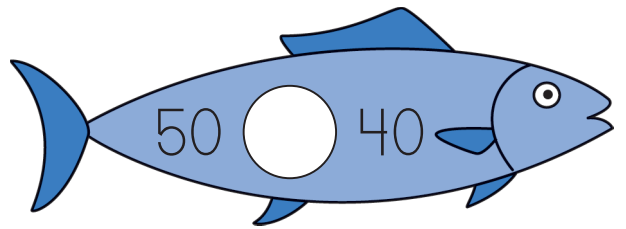


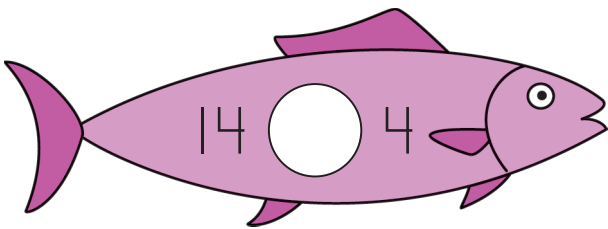



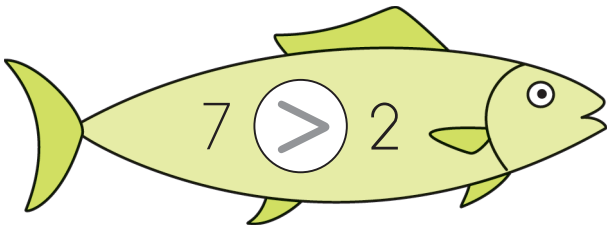
Το 8 είναι **μεγαλύτερο**
από το 7

$$8 > 7$$

Το 7 είναι **μικρότερο**
από το 8

$$7 < 8$$

▶ Γράψε ένα $<$ ή ένα $>$ μέσα σε κάθε κύκλο.





τι λείπει;

► Γράψε τον αριθμό που λείπει.

μετά

21 22

39 _____

45 _____

17 _____

26 _____

9 _____

49 _____

πριν

_____ 37

_____ 50

_____ 16

_____ 44

_____ 21

_____ 8

_____ 33

στη μέση

9 _____ 11

13 _____ 15

48 _____ 50

31 _____ 33

17 _____ 19

40 _____ 42

26 _____ 28

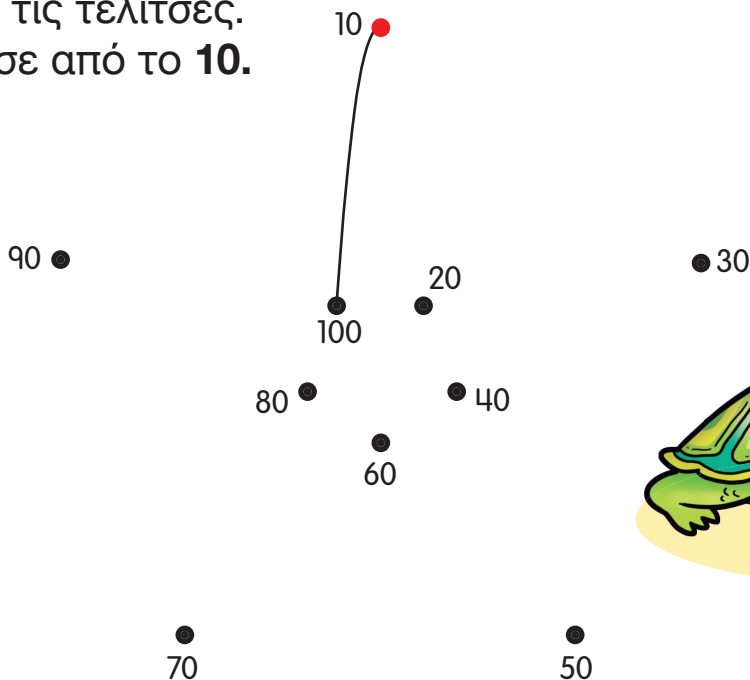
μετράμε δεκάδες

▶ Κάθε στήλη έχει **10** αστερίες. Μέτρησε ανά **10**άδες.
Γράψε τον αριθμό.



10									
----	--	--	--	--	--	--	--	--	--

▶ Ένωσε τις τελίτσες.
Ξεκίνησε από το **10**.



μετράμε πεντάδες

▶ Κάθε ψάρι έχει 5 βούλες. Μέτρησε ανά 5άδες. Γράψε τον αριθμό.



5







































▶ Ένωσε τις τελίτσες. Μέτρησε ανά 5άδες.

50

55

45

60

40

70

35

75

25

30

80

20

85

15

90

10




100

5

95

μαρμελάδα και μέδουσες

► Η μέδουσα θέλει να φάει μαρμελάδα. Μέτρησε ανά 5άδες για να βρεις τον δρόμο για το βάζο. Χρωμάτισε τα κουτιά.



5	10	15	20	80	20	78
25	13	60	25	54	9	66
41	40	35	30	31	38	4
90	45	34	29	57	4	41
36	50	5	80	85	90	27
22	55	66	75	72	95	1
26	60	65	70	50	100	88



στον ωκεανό

▶ Μέτρησε ανά 5άδες για να βοηθήσεις το καβούρι να βρει τον δρόμο του για τον ωκεανό.



A winding yellow path with a white line in the center, leading from a crab to the ocean. The path is marked with numbers and empty boxes for counting by 5s.

5

10

50

95

Empty boxes for counting: 1, 2, 3, 4, 6, 7, 8, 9, 11, 12, 13, 14, 16, 17, 18, 19, 21, 22, 23, 24, 26, 27, 28, 29, 31, 32, 33, 34, 36, 37, 38, 39, 41, 42, 43, 44, 46, 47, 48, 49, 51, 52, 53, 54, 56, 57, 58, 59, 61, 62, 63, 64, 66, 67, 68, 69, 71, 72, 73, 74, 76, 77, 78, 79, 81, 82, 83, 84, 86, 87, 88, 89, 91, 92, 93, 94, 96, 97, 98, 99.

μετράμε δυάδες

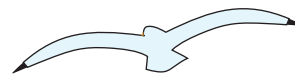


► Μέτρησε τις σαγιονάρες ανά 2άδες.



αγώνας στη θάλασσα

▶ Το καράβι θέλει να κερδίσει στον αγώνα.
Μέτρησε ανά 2άδες για να βρεις τον
δρόμο. Χρωμάτισε τα κουτιά.



2	4	6	3	9	11	0
13	17	8	16	11	19	6
14	12	10	21	38	40	42
16	13	23	34	36	24	44
18	20	31	32	35	25	46
19	22	27	30	39	27	48
21	24	26	28	37	16	50

ΝΙΚΗΤΗΣ!

